

Στατιστική για Πολιτικούς Μηχανικούς

Δημήτρης Κουγιουμτζής

15 Νοεμβρίου 2017

Περιεχόμενα

- Περιγραφική στατιστική (Σημειώσεις: Κεφ. 1)

Περιεχόμενα

- Περιγραφική στατιστική (Σημειώσεις: Κεφ. 1)
- Εκτίμηση παραμέτρων (Σημειώσεις: Κεφ. 2)

Περιεχόμενα

- Περιγραφική στατιστική (Σημειώσεις: Κεφ. 1)
- Εκτίμηση παραμέτρων (Σημειώσεις: Κεφ. 2)
- Στατιστικοί έλεγχοι (Σημειώσεις: Κεφ. 3)

Περιεχόμενα

- Περιγραφική στατιστική (Σημειώσεις: Κεφ. 1)
- Εκτίμηση παραμέτρων (Σημειώσεις: Κεφ. 2)
- Στατιστικοί έλεγχοι (Σημειώσεις: Κεφ. 3)
- Συσχέτιση, Παλινδρόμηση (Σημειώσεις: Κεφ. 4)

Περιεχόμενα

- Περιγραφική στατιστική (Σημειώσεις: Κεφ. 1)
- Εκτίμηση παραμέτρων (Σημειώσεις: Κεφ. 2)
- Στατιστικοί έλεγχοι (Σημειώσεις: Κεφ. 3)
- Συσχέτιση, Παλινδρόμηση (Σημειώσεις: Κεφ. 4)

Ιστοσελίδα μαθήματος:

<http://users.auth.gr/dkugiu/Teach/CivilEngineer/>

Εισαγωγικά

Εισαγωγικά

Βεβαιότητα

βέβαια φαινόμενα \rightarrow χρήση καθοριστικών μεθόδων / μοντέλων

Εισαγωγικά

Βεβαιότητα

- βέβαια** φαινόμενα \rightarrow χρήση **καθοριστικών** μεθόδων / μοντέλων
- Πόση ώρα κάνει ένας ποδηλάτης από το ένα στο άλλο άκρο της Νέας Παραλίας Θεσσαλονίκης (3km), όταν πηγαίνει με σταθερή ταχύτητα 20km/h;

Εισαγωγικά

Βεβαιότητα

βέβαια φαινόμενα \rightarrow χρήση **καθοριστικών** μεθόδων / μοντέλων

- Πόση ώρα κάνει ένας ποδηλάτης από το ένα στο άλλο άκρο της Νέας Παραλίας Θεσσαλονίκης (3km), όταν πηγαίνει με σταθερή ταχύτητα 20km/h;
- Ποια θα είναι η θέση της γης ως προς τον ήλιο την πρωτοχρονιά 2018;

Εισαγωγικά

Βεβαιότητα

βέβαια φαινόμενα → χρήση **καθοριστικών** μεθόδων / μοντέλων

- Πόση ώρα κάνει ένας ποδηλάτης από το ένα στο άλλο άκρο της Νέας Παραλίας Θεσσαλονίκης (3km), όταν πηγαίνει με σταθερή ταχύτητα 20km/h;
- Ποια θα είναι η θέση της γης ως προς τον ήλιο την πρωτοχρονιά 2018;

Αβεβαιότητα / τυχαιότητα

αβέβαια ή τυχαία φαινόμενα → χρήση **στατιστικών** μεθόδων / μοντέλων

Εισαγωγικά

Βεβαιότητα

βέβαια φαινόμενα → χρήση **καθοριστικών** μεθόδων / μοντέλων

- Πόση ώρα κάνει ένας ποδηλάτης από το ένα στο άλλο άκρο της Νέας Παραλίας Θεσσαλονίκης (3km), όταν πηγαίνει με σταθερή ταχύτητα 20km/h;
- Ποια θα είναι η θέση της γης ως προς τον ήλιο την πρωτοχρονιά 2018;

Αβεβαιότητα / τυχαιότητα

αβέβαια ή τυχαία φαινόμενα → χρήση **στατιστικών** μεθόδων / μοντέλων

- Πόση ώρα κάνει κάποιος τη διαδρομή xxxxxx – Πολυτεχνείο με ποδήλατο / αυτοκίνητο;

Εισαγωγικά

Βεβαιότητα

- βέβαια** φαινόμενα → χρήση **καθοριστικών** μεθόδων / μοντέλων
- Πόση ώρα κάνει ένας ποδηλάτης από το ένα στο άλλο άκρο της Νέας Παραλίας Θεσσαλονίκης (3km), όταν πηγαίνει με σταθερή ταχύτητα 20km/h;
 - Ποια θα είναι η θέση της γης ως προς τον ήλιο την πρωτοχρονιά 2018;

Αβεβαιότητα / τυχαιότητα

- αβέβαια ή τυχαία** φαινόμενα → χρήση **στατιστικών** μεθόδων / μοντέλων
- Πόση ώρα κάνει κάποιος τη διαδρομή xxxxxx – Πολυτεχνείο με ποδήλατο / αυτοκίνητο;
 - Είναι ακριβές το δρομολόγιο του ΟΣΕ για Αθήνα – Θεσσαλονίκη; (π.χ. InterCity 10.18 – 15.41)

Παραδείγματα

Παραδείγματα

- Ποια είναι η αντοχή θραύσης ενός τύπου σκυροδέματος;

Παραδείγματα

- Ποια είναι η αντοχή θραύσης ενός τύπου σκυροδέματος;
- Ποια είναι η μέση ροή κίνησης σε μια οδική αρτηρία το μεσημέρι; Είναι μεγαλύτερη από 1000 οχήματα την ώρα;

Παραδείγματα

- Ποια είναι η αντοχή θραύσης ενός τύπου σκυροδέματος;
- Ποια είναι η μέση ροή κίνησης σε μια οδική αρτηρία το μεσημέρι; Είναι μεγαλύτερη από 1000 οχήματα την ώρα;
- Πόσοι χώροι πάρκινγκ ανά διαμέρισμα έχει κατά μέσο όρο μια πολυκατοικία στην Τούμπα; Στην Καλαμαριά; Υπάρχει διαφορά στις δύο συνοικίες;

Παραδείγματα

- Ποια είναι η αντοχή θραύσης ενός τύπου σκυροδέματος;
- Ποια είναι η μέση ροή κίνησης σε μια οδική αρτηρία το μεσημέρι; Είναι μεγαλύτερη από 1000 οχήματα την ώρα;
- Πόσοι χώροι πάρκινγκ ανά διαμέρισμα έχει κατά μέσο όρο μια πολυκατοικία στην Τούμπα; Στην Καλαμαριά; Υπάρχει διαφορά στις δύο συνοικίες;
- Πως μεταβάλλεται η κατανάλωση ηλεκτρικής ενέργειας με το μέγεθος του διαμερίσματος; Μπορούμε να προβλέψουμε για κάποιο διαμέρισμα γνωστού μεγέθους την κατανάλωση ενέργειας;

Παραδείγματα

- Ποια είναι η αντοχή θραύσης ενός τύπου σκυροδέματος;
- Ποια είναι η μέση ροή κίνησης σε μια οδική αρτηρία το μεσημέρι; Είναι μεγαλύτερη από 1000 οχήματα την ώρα;
- Πόσοι χώροι πάρκινγκ ανά διαμέρισμα έχει κατά μέσο όρο μια πολυκατοικία στην Τούμπα; Στην Καλαμαριά; Υπάρχει διαφορά στις δύο συνοικίες;
- Πως μεταβάλλεται η κατανάλωση ηλεκτρικής ενέργειας με το μέγεθος του διαμερίσματος; Μπορούμε να προβλέψουμε για κάποιο διαμέρισμα γνωστού μεγέθους την κατανάλωση ενέργειας;

Πως θα απαντήσουμε; \implies

Παραδείγματα

- Ποια είναι η αντοχή θραύσης ενός τύπου σκυροδέματος;
- Ποια είναι η μέση ροή κίνησης σε μια οδική αρτηρία το μεσημέρι; Είναι μεγαλύτερη από 1000 οχήματα την ώρα;
- Πόσοι χώροι πάρκινγκ ανά διαμέρισμα έχει κατά μέσο όρο μια πολυκατοικία στην Τούμπα; Στην Καλαμαριά; Υπάρχει διαφορά στις δύο συνοικίες;
- Πως μεταβάλλεται η κατανάλωση ηλεκτρικής ενέργειας με το μέγεθος του διαμερίσματος; Μπορούμε να προβλέψουμε για κάποιο διαμέρισμα γνωστού μεγέθους την κατανάλωση ενέργειας;

Πως θα απαντήσουμε; \implies **Στατιστική**

Διαδικασία Στατιστικής

Διαδικασία Στατιστικής

- 1 Δειγματοληψία (συλλογή δεδομένων)

Διαδικασία Στατιστικής

- 1 Δειγματοληψία (συλλογή δεδομένων)
- 2 Περιγραφική Στατιστική (περιγραφή / παρουσίαση δεδομένων και συνοπτικών μέτρων)

Διαδικασία Στατιστικής

- 1 **Δειγματοληψία** (συλλογή δεδομένων)
- 2 **Περιγραφική Στατιστική** (περιγραφή / παρουσίαση δεδομένων και συνοπτικών μέτρων)
- 3 **Στατιστική Συμπερασματολογία** ή **Στατιστική** (ανάλυση στατιστικών δεδομένων και ερμηνεία αποτελεσμάτων)

Διαδικασία Στατιστικής

- 1 **Δειγματοληψία** (συλλογή δεδομένων)
- 2 **Περιγραφική Στατιστική** (περιγραφή / παρουσίαση δεδομένων και συνοπτικών μέτρων)
- 3 **Στατιστική Συμπερασματολογία** ή **Στατιστική** (ανάλυση στατιστικών δεδομένων και ερμηνεία αποτελεσμάτων)

Παράδειγμα: Χώροι πάρκιγκ

Διαδικασία Στατιστικής

- 1 Δειγματοληψία (συλλογή δεδομένων)
- 2 Περιγραφική Στατιστική (περιγραφή / παρουσίαση δεδομένων και συνοπτικών μέτρων)
- 3 Στατιστική Συμπερασματολογία ή Στατιστική (ανάλυση στατιστικών δεδομένων και ερμηνεία αποτελεσμάτων)

Παράδειγμα: Χώροι πάρκιγκ

- 1 Συλλέγουμε δεδομένα από 20 πολυκατοικίες στην Τούμπα και 19 στην Καλαμαριά.

Διαδικασία Στατιστικής

- 1 **Δειγματοληψία** (συλλογή δεδομένων)
- 2 **Περιγραφική Στατιστική** (περιγραφή / παρουσίαση δεδομένων και συνοπτικών μέτρων)
- 3 **Στατιστική Συμπερασματολογία** ή **Στατιστική** (ανάλυση στατιστικών δεδομένων και ερμηνεία αποτελεσμάτων)

Παράδειγμα: Χώροι πάρκιγκ

- 1 Συλλέγουμε δεδομένα από 20 πολυκατοικίες στην Τούμπα και 19 στην Καλαμαριά.
- 2 'Βλέπουμε' τις παρατηρήσεις (πίνακες, γραφήματα) και υπολογίζουμε κάποια μέτρα (π.χ. μέσο όρο).

Διαδικασία Στατιστικής

- 1 Δειγματοληψία (συλλογή δεδομένων)
- 2 Περιγραφική Στατιστική (περιγραφή / παρουσίαση δεδομένων και συνοπτικών μέτρων)
- 3 Στατιστική Συμπερασματολογία ή Στατιστική (ανάλυση στατιστικών δεδομένων και ερμηνεία αποτελεσμάτων)

Παράδειγμα: Χώροι πάρκιγκ

- 1 Συλλέγουμε δεδομένα από 20 πολυκατοικίες στην Τούμπα και 19 στην Καλαμαριά.
- 2 'Βλέπουμε' τις παρατηρήσεις (πίνακες, γραφήματα) και υπολογίζουμε κάποια μέτρα (π.χ. μέσο όρο).
- 3 Εφαρμόζουμε στατιστικές μεθόδους για να εκτιμήσουμε το μέσο χώρο πάρκιγκ στις δύο συνοικίες και για να ελέγξουμε αν υπάρχει σημαντική διαφορά.

Χρήσιμοι όροι Στατιστικής

Χρήσιμοι όροι Στατιστικής

- **τυχαία μεταβλητή (τ.μ.):** οποιοδήποτε χαρακτηριστικό του οποίου η τιμή αλλάζει στα διάφορα στοιχεία του πληθυσμού, π.χ. η αντοχή θραύσης σκυροδέματος.

Χρήσιμοι όροι Στατιστικής

- **τυχαία μεταβλητή (τ.μ.):** οποιοδήποτε χαρακτηριστικό του οποίου η τιμή αλλάζει στα διάφορα στοιχεία του πληθυσμού, π.χ. η αντοχή θραύσης σκυροδέματος.
- **δεδομένα:** ένα σύνολο τιμών μιας τ.μ. που έχουμε στη διάθεση μας, π.χ. μετρήσεις αντοχής θραύσης σκυροδέματος.

Χρήσιμοι όροι Στατιστικής

- **τυχαία μεταβλητή (τ.μ.):** οποιοδήποτε χαρακτηριστικό του οποίου η τιμή αλλάζει στα διάφορα στοιχεία του πληθυσμού, π.χ. η αντοχή θραύσης σκυροδέματος.
- **δεδομένα:** ένα σύνολο τιμών μιας τ.μ. που έχουμε στη διάθεση μας, π.χ. μετρήσεις αντοχής θραύσης σκυροδέματος.
- **πληθυσμός:** μια ομάδα ή μια κατηγορία στην οποία αναφέρεται η τ.μ., π.χ. σκυρόδεμα γενικά, ή ένας τύπος σκυροδέματος.

Χρήσιμοι όροι Στατιστικής

- **τυχαία μεταβλητή (τ.μ.):** οποιοδήποτε χαρακτηριστικό του οποίου η τιμή αλλάζει στα διάφορα στοιχεία του πληθυσμού, π.χ. η αντοχή θραύσης σκυροδέματος.
- **δεδομένα:** ένα σύνολο τιμών μιας τ.μ. που έχουμε στη διάθεση μας, π.χ. μετρήσεις αντοχής θραύσης σκυροδέματος.
- **πληθυσμός:** μια ομάδα ή μια κατηγορία στην οποία αναφέρεται η τ.μ., π.χ. σκυρόδεμα γενικά, ή ένας τύπος σκυροδέματος.
- **δείγμα:** ένα υποσύνολο του πληθυσμού που μελετάμε, π.χ. 25 δοκίμια σκυροδέματος γενικά ή ενός τύπου.

Χρήσιμοι όροι Στατιστικής

- **τυχαία μεταβλητή (τ.μ.):** οποιοδήποτε χαρακτηριστικό του οποίου η τιμή αλλάζει στα διάφορα στοιχεία του πληθυσμού, π.χ. η αντοχή θραύσης σκυροδέματος.
- **δεδομένα:** ένα σύνολο τιμών μιας τ.μ. που έχουμε στη διάθεση μας, π.χ. μετρήσεις αντοχής θραύσης σκυροδέματος.
- **πληθυσμός:** μια ομάδα ή μια κατηγορία στην οποία αναφέρεται η τ.μ., π.χ. σκυρόδεμα γενικά, ή ένας τύπος σκυροδέματος.
- **δείγμα:** ένα υποσύνολο του πληθυσμού που μελετάμε, π.χ. 25 δοκίμια σκυροδέματος γενικά ή ενός τύπου.
- **παράμετρος:** ένα μέγεθος που συνοψίζει με κάποιον τρόπο τις τιμές της τ.μ. στον πληθυσμό, π.χ. η μέση τιμή αντοχής θραύσης σκυροδέματος.

Χρήσιμοι όροι Στατιστικής

- **τυχαία μεταβλητή (τ.μ.):** οποιοδήποτε χαρακτηριστικό του οποίου η τιμή αλλάζει στα διάφορα στοιχεία του πληθυσμού, π.χ. η αντοχή θραύσης σκυροδέματος.
- **δεδομένα:** ένα σύνολο τιμών μιας τ.μ. που έχουμε στη διάθεση μας, π.χ. μετρήσεις αντοχής θραύσης σκυροδέματος.
- **πληθυσμός:** μια ομάδα ή μια κατηγορία στην οποία αναφέρεται η τ.μ., π.χ. σκυρόδεμα γενικά, ή ένας τύπος σκυροδέματος.
- **δείγμα:** ένα υποσύνολο του πληθυσμού που μελετάμε, π.χ. 25 δοκίμια σκυροδέματος γενικά ή ενός τύπου.
- **παράμετρος:** ένα μέγεθος που συνοψίζει με κάποιο τρόπο τις τιμές της τ.μ. στον πληθυσμό, π.χ. η μέση τιμή αντοχής θραύσης σκυροδέματος.
- **στατιστικό:** ένα μέγεθος που συνοψίζει με κάποιο τρόπο τις τιμές της τ.μ. στο δείγμα, π.χ. ο μέσος όρος αντοχής θραύσης από τα 25 δοκίμια σκυροδέματος που μετρήσαμε.

Πιθανότητες

Πιθανότητες

Πιθανοθεωρία

Πιθανότητες

Πιθανοθεωρία

- Τυχαία μεταβλητή τ.μ. X

Πιθανότητες

Πιθανοθεωρία

- Τυχαία μεταβλητή τ.μ. X
- Συνάρτηση πυκνότητας πιθανότητας ή συνάρτηση μάζας πιθανότητας $f_X(x)$

Πιθανότητες

Πιθανοθεωρία

- Τυχαία μεταβλητή τ.μ. X
- Συνάρτηση πυκνότητας πιθανότητας ή συνάρτηση μάζας πιθανότητας $f_X(x)$
- Αθροιστική συνάρτηση κατανομής $F_X(x)$

Πιθανότητες

Πιθανοθεωρία

- Τυχαία μεταβλητή τ.μ. X
- Συνάρτηση πυκνότητας πιθανότητας ή συνάρτηση μάζας πιθανότητας $f_X(x)$
- Αθροιστική συνάρτηση κατανομής $F_X(x)$
- Κύριες παράμετροι κατανομής:
 - Μέση (προσδοκώμενη) τιμή: $E(X) = \mu$
 - Διασπορά (διακύμανση): $\text{Var}(X) = \sigma^2$

Πιθανότητες

Πιθανοθεωρία

- Τυχαία μεταβλητή τ.μ. X
- Συνάρτηση πυκνότητας πιθανότητας ή συνάρτηση μάζας πιθανότητας $f_X(x)$
- Αθροιστική συνάρτηση κατανομής $F_X(x)$
- Κύριες παράμετροι κατανομής:
 - Μέση (προσδοκώμενη) τιμή: $E(X) = \mu$
 - Διασπορά (διακύμανση): $\text{Var}(X) = \sigma^2$

Σκοπός Πιθανοθεωρίας

γνωρίζουμε κατανομή (παραμέτρους) \longrightarrow μελετάμε την τ.μ.

Πιθανότητες

Πιθανοθεωρία

- Τυχαία μεταβλητή τ.μ. X
- Συνάρτηση πυκνότητας πιθανότητας ή συνάρτηση μάζας πιθανότητας $f_X(x)$
- Αθροιστική συνάρτηση κατανομής $F_X(x)$
- Κύριες παράμετροι κατανομής:
 - Μέση (προσδοκώμενη) τιμή: $E(X) = \mu$
 - Διασπορά (διακύμανση): $\text{Var}(X) = \sigma^2$

Σκοπός Πιθανοθεωρίας

γνωρίζουμε κατανομή (παραμέτρους) \rightarrow μελετάμε την τ.μ.

Σκοπός Στατιστικής

γνωρίζουμε τιμές της τ.μ. \rightarrow συμπεράσματα για την τ.μ.

Με βάση τα δεδομένα θέλουμε να βγάλουμε συμπεράσματα:

από δείγμα	→	για πληθυσμό
από στατιστικό	→	για παράμετρο

Με βάση τα δεδομένα θέλουμε να βγάλουμε συμπεράσματα:
από δείγμα \longrightarrow για πληθυσμό
από στατιστικό \longrightarrow για παράμετρο

Παράμετρος: σταθερή κι άγνωστη

Στατιστικό: μεταβλητό και γνωστό

Με βάση τα δεδομένα θέλουμε να βγάλουμε συμπεράσματα:
από δείγμα \longrightarrow για πληθυσμό
από στατιστικό \longrightarrow για παράμετρο

Παράμετρος: σταθερή κι άγνωστη

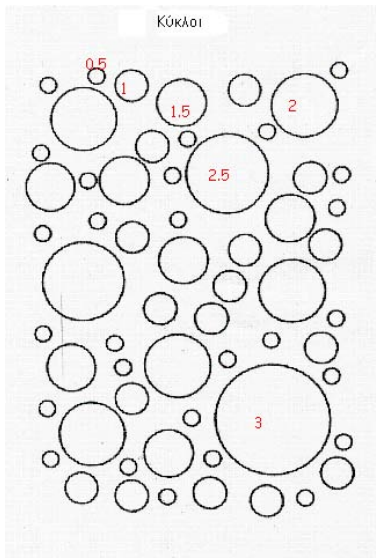
Στατιστικό: μεταβλητό και γνωστό

Δείγμα: τυχαίο και αντιπροσωπευτικό του πληθυσμού

Πείραμα: 'τυχαίο και αντιπροσωπευτικό δείγμα';

- 1 Πάρε ένα χαρτάκι με την εικόνα στο διπλανό σχήμα.
- 2 Διάλεξε τυχαίο και αντιπροσωπευτικό δείγμα πέντε κύκλων από τους 60 του πληθυσμού.
- 3 Υπολόγισε το μέσο όρο των ακτίνων των 5 κύκλων και γράψε το στο πίσω μέρος, π.χ.

$$\frac{1 + 0.5 + 1.5 + 1 + 2.5}{5} = 1.3$$



ΠΕΡΙΓΡΑΦΙΚΗ ΣΤΑΤΙΣΤΙΚΗ

ΠΕΡΙΓΡΑΦΙΚΗ ΣΤΑΤΙΣΤΙΚΗ

Περιγραφή Στατιστικών δεδομένων

ΠΕΡΙΓΡΑΦΙΚΗ ΣΤΑΤΙΣΤΙΚΗ

Περιγραφή Στατιστικών δεδομένων

1. Διακεκριμένες τιμές (k κατηγορίες ή λίγες αριθμητικές τιμές x_i , $i = 1, \dots, k$, δείγμα μεγέθους n)

ΠΕΡΙΓΡΑΦΙΚΗ ΣΤΑΤΙΣΤΙΚΗ

Περιγραφή Στατιστικών δεδομένων

1. Διακεκριμένες τιμές (k κατηγορίες ή λίγες αριθμητικές τιμές x_i , $i = 1, \dots, k$, δείγμα μεγέθους n)

Συχνότητες

- συχνότητα εμφάνισης της τιμής x_i , f_i

ΠΕΡΙΓΡΑΦΙΚΗ ΣΤΑΤΙΣΤΙΚΗ

Περιγραφή Στατιστικών δεδομένων

1. Διακεκριμένες τιμές (k κατηγορίες ή λίγες αριθμητικές τιμές x_i , $i = 1, \dots, k$, δείγμα μεγέθους n)

Συχνότητες

- συχνότητα εμφάνισης της τιμής x_i , f_i
- σχετική συχνότητα / ποσοστό, $p_i = \frac{f_i}{n}$

ΠΕΡΙΓΡΑΦΙΚΗ ΣΤΑΤΙΣΤΙΚΗ

Περιγραφή Στατιστικών δεδομένων

1. Διακεκριμένες τιμές (k κατηγορίες ή λίγες αριθμητικές τιμές x_i , $i = 1, \dots, k$, δείγμα μεγέθους n)

Συχνότητες

- συχνότητα εμφάνισης της τιμής x_i , f_i
- σχετική συχνότητα / ποσοστό, $p_i = \frac{f_i}{n}$
- αθροιστική συχνότητα $F_i = \sum_{j=1}^i f_j$ όπου $x_j \leq x_i$

ΠΕΡΙΓΡΑΦΙΚΗ ΣΤΑΤΙΣΤΙΚΗ

Περιγραφή Στατιστικών δεδομένων

1. Διακεκριμένες τιμές (k κατηγορίες ή λίγες αριθμητικές τιμές x_i , $i = 1, \dots, k$, δείγμα μεγέθους n)

Συχνότητες

- συχνότητα εμφάνισης της τιμής x_i , f_i
- σχετική συχνότητα / ποσοστό, $p_i = \frac{f_i}{n}$
- αθροιστική συχνότητα $F_i = \sum_{j=1}^i f_j$ όπου $x_j \leq x_i$
- αθροιστική σχετική συχνότητα
 $P_i = \sum_{j=1}^i p_j$ όπου $x_j \leq x_i$

ΠΕΡΙΓΡΑΦΙΚΗ ΣΤΑΤΙΣΤΙΚΗ

Περιγραφή Στατιστικών δεδομένων

1. Διακεκριμένες τιμές (k κατηγορίες ή λίγες αριθμητικές τιμές x_i , $i = 1, \dots, k$, δείγμα μεγέθους n)

Συχνότητες

- συχνότητα εμφάνισης της τιμής x_i , f_i
- σχετική συχνότητα / ποσοστό, $p_i = \frac{f_i}{n}$
- αθροιστική συχνότητα $F_i = \sum_{j=1}^i f_j$ όπου $x_j \leq x_i$
- αθροιστική σχετική συχνότητα
 $P_i = \sum_{j=1}^i p_j$ όπου $x_j \leq x_i$

Παρουσίαση συχνοτήτων για τα x_i :

ΠΕΡΙΓΡΑΦΙΚΗ ΣΤΑΤΙΣΤΙΚΗ

Περιγραφή Στατιστικών δεδομένων

1. Διακεκριμένες τιμές (k κατηγορίες ή λίγες αριθμητικές τιμές x_i , $i = 1, \dots, k$, δείγμα μεγέθους n)

Συχνότητες

- συχνότητα εμφάνισης της τιμής x_i , f_i
- σχετική συχνότητα / ποσοστό, $p_i = \frac{f_i}{n}$
- αθροιστική συχνότητα $F_i = \sum_{j=1}^i f_j$ όπου $x_j \leq x_i$
- αθροιστική σχετική συχνότητα
 $P_i = \sum_{j=1}^i p_j$ όπου $x_j \leq x_i$

Παρουσίαση συχνοτήτων για τα x_i :

- **πίνακα συχνοτήτων**: μια γραμμή για κάθε τιμή, κάθε στήλη είναι ένας τύπος συχνότητας

ΠΕΡΙΓΡΑΦΙΚΗ ΣΤΑΤΙΣΤΙΚΗ

Περιγραφή Στατιστικών δεδομένων

1. Διακεκριμένες τιμές (k κατηγορίες ή λίγες αριθμητικές τιμές x_i , $i = 1, \dots, k$, δείγμα μεγέθους n)

Συχνότητες

- συχνότητα εμφάνισης της τιμής x_i , f_i
- σχετική συχνότητα / ποσοστό, $p_i = \frac{f_i}{n}$
- αθροιστική συχνότητα $F_i = \sum_{j=1}^i f_j$ όπου $x_j \leq x_i$
- αθροιστική σχετική συχνότητα
 $P_i = \sum_{j=1}^i p_j$ όπου $x_j \leq x_i$

Παρουσίαση συχνοτήτων για τα x_i :

- **πίνακα συχνοτήτων**: μια γραμμή για κάθε τιμή, κάθε στήλη είναι ένας τύπος συχνότητας
- **ραβδόγραμμα**: μια ράβδος για τη συχνότητα κάθε τιμής

ΠΕΡΙΓΡΑΦΙΚΗ ΣΤΑΤΙΣΤΙΚΗ

Περιγραφή Στατιστικών δεδομένων

1. Διακεκριμένες τιμές (k κατηγορίες ή λίγες αριθμητικές τιμές x_i , $i = 1, \dots, k$, δείγμα μεγέθους n)

Συχνότητες

- συχνότητα εμφάνισης της τιμής x_i , f_i
- σχετική συχνότητα / ποσοστό, $p_i = \frac{f_i}{n}$
- αθροιστική συχνότητα $F_i = \sum_{j=1}^i f_j$ όπου $x_j \leq x_i$
- αθροιστική σχετική συχνότητα
 $P_i = \sum_{j=1}^i p_j$ όπου $x_j \leq x_i$

Παρουσίαση συχνοτήτων για τα x_i :

- **πίνακα συχνοτήτων**: μια γραμμή για κάθε τιμή, κάθε στήλη είναι ένας τύπος συχνότητας
- **ραβδόγραμμα**: μια ράβδος για τη συχνότητα κάθε τιμής
- **κυκλικό διάγραμμα** ('πίτα')

Παράδειγμα: αριθμός δωματίων διαμερίσματος

Παράδειγμα: αριθμός δωματίων διαμερίσματος

Δίνεται ο αριθμός δωματίων σε ένα δείγμα 120 διαμερισμάτων μιας συνοικίας της πόλης.

1	4	2	2	2	3	4	3	1	1	3	3
1	2	1	2	1	1	2	3	3	5	1	2
2	3	2	1	1	4	3	4	1	1	6	2
1	3	2	1	2	2	3	2	4	3	3	5
1	3	5	3	1	2	2	3	1	2	6	4
1	2	5	4	3	1	2	4	2	1	3	4
2	2	2	3	2	1	3	3	4	2	1	5
2	2	3	3	2	4	6	3	2	3	1	3
2	1	5	1	1	4	4	2	5	4	2	2
4	2	1	2	2	2	3	2	3	2	1	4

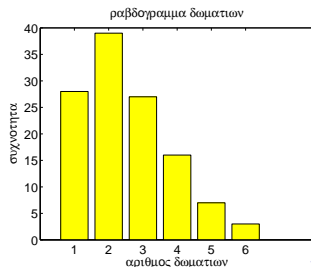
Παράδειγμα (συνέχεια)

Παράδειγμα (συνέχεια)

Πίνακας συχνοτήτων

x_i	f_i	p_i	F_i	P_i
1	28	0.23	28	0.23
2	39	0.33	67	0.56
3	27	0.23	94	0.78
4	16	0.13	110	0.92
5	7	0.06	117	0.97
6	3	0.03	120	1.00
Άθροισμα	120	1.00		

Ραβδόγραμμα



2. Αριθμητικές τιμές (πολλές διακεκριμένες τιμές, τιμές σε διάστημα)

2. Αριθμητικές τιμές (πολλές διακεκριμένες τιμές, τιμές σε διάστημα)

Ομαδοποίηση

Χωρίζουμε τα δεδομένα σε k ομάδες \rightarrow πίνακες / γραφήματα
όπως πριν για τις k τιμές (ομάδες)

2. Αριθμητικές τιμές (πολλές διακεκριμένες τιμές, τιμές σε διάστημα)

Ομαδοποίηση

Χωρίζουμε τα δεδομένα σε k ομάδες \rightarrow πίνακες / γραφήματα όπως πριν για τις k τιμές (ομάδες)

Χωρισμός σε ομάδες: (ίδιο εύρος τιμών r σε κάθε ομάδα)

2. Αριθμητικές τιμές (πολλές διακεκριμένες τιμές, τιμές σε διάστημα)

Ομαδοποίηση

Χωρίζουμε τα δεδομένα σε k ομάδες \rightarrow πίνακες / γραφήματα όπως πριν για τις k τιμές (ομάδες)

Χωρισμός σε ομάδες: (ίδιο εύρος τιμών r σε κάθε ομάδα)

Εύρος δεδομένων: $R = x_{\max} - x_{\min}$

$$R/k \simeq r$$

Το πρώτο διάστημα πρέπει να περιέχει το x_{\min}

Το τελευταίο διάστημα πρέπει να περιέχει το x_{\max}

2. Αριθμητικές τιμές (πολλές διακεκριμένες τιμές, τιμές σε διάστημα)

Ομαδοποίηση

Χωρίζουμε τα δεδομένα σε k ομάδες \rightarrow πίνακες / γραφήματα όπως πριν για τις k τιμές (ομάδες)

Χωρισμός σε ομάδες: (ίδιο εύρος τιμών r σε κάθε ομάδα)

Εύρος δεδομένων: $R = x_{\max} - x_{\min}$

$$R/k \simeq r$$

Το πρώτο διάστημα πρέπει να περιέχει το x_{\min}

Το τελευταίο διάστημα πρέπει να περιέχει το x_{\max}

Ραβδόγραμμα (ενώνοντας τις πλευρές) \rightarrow **ιστόγραμμα**

2. Αριθμητικές τιμές (πολλές διακεκριμένες τιμές, τιμές σε διάστημα)

Ομαδοποίηση

Χωρίζουμε τα δεδομένα σε k ομάδες \rightarrow πίνακες / γραφήματα όπως πριν για τις k τιμές (ομάδες)

Χωρισμός σε ομάδες: (ίδιο εύρος τιμών r σε κάθε ομάδα)

Εύρος δεδομένων: $R = x_{\max} - x_{\min}$

$$R/k \simeq r$$

Το πρώτο διάστημα πρέπει να περιέχει το x_{\min}

Το τελευταίο διάστημα πρέπει να περιέχει το x_{\max}

Ραβδόγραμμα (ενώνοντας τις πλευρές) \rightarrow **ιστόγραμμα**

Άλλα γραφήματα: φυλλογράφημα, σημειογράφημα, ...

Θέμα 1

Προσδιορισμός αριθμού ομάδων ή εύρος διαστήματος ιστογράμματος (number of bins or bin width): Μέθοδοι και περιορισμοί.

Θέμα 1

Προσδιορισμός αριθμού ομάδων ή εύρος διαστήματος ιστογράμματος (number of bins or bin width): Μέθοδοι και περιορισμοί.

Θέμα 2

Φυλλογράφημα (stem and leaf plot): Παρουσίαση, πλεονεκτήματα και παράδειγμα.

Παράδειγμα: αντοχή θραύσης σκυροδέματος

Μετρήθηκε η αντοχή θραύσης σκυροδέματος σε δύο δείγματα από δύο τύπους σκυροδέματος A και B.

A/A	τύπος A	τύπος B
1	5.3	5.0
2	4.5	4.2
3	5.7	5.4
4	5.8	5.5
5	4.8	4.6
6	6.4	6.1
7	6.4	6.1
8	5.6	5.3
9	5.8	5.5
10	5.7	5.4
11	5.5	5.2
12	6.1	5.8
13	5.2	4.9
14	7.0	6.7
15	5.5	5.2
16	5.7	5.4
17	6.3	6.0
18	5.6	5.3
19	5.5	5.2
20	5.0	4.8
21	5.8	
22	4.7	
23	6.1	
24	6.7	
25	5.1	
Σύνολο	141.8	107.6

Παράδειγμα (συνέχεια)

X αντοχή θραύσης του σκυροδέματος τύπου A (σε ksi)

Παράδειγμα (συνέχεια)

X αντοχή θραύσης του σκυροδέματος τύπου A (σε ksi)

Χωρισμός σε ομάδες

$$x_{\min} = 4.5 \text{ ksi} \quad x_{\max} = 7.0 \text{ ksi}$$

$$R = x_{\max} - x_{\min} = 7.0 - 4.5 = 2.5 \text{ ksi.}$$

Παράδειγμα (συνέχεια)

X αντοχή θραύσης του σκυροδέματος τύπου A (σε ksi)

Χωρισμός σε ομάδες

$$x_{\min} = 4.5 \text{ ksi} \quad x_{\max} = 7.0 \text{ ksi}$$

$$R = x_{\max} - x_{\min} = 7.0 - 4.5 = 2.5 \text{ ksi.}$$

Διαλέγουμε να χωρίσουμε τα δεδομένα σε 10 ομάδες ($k = 10$)

$$r = \frac{R}{k} = \frac{2.5}{10} = 0.25 \text{ ksi,}$$

Παράδειγμα (συνέχεια)

Χ αντοχή θραύσης του σκυροδέματος τύπου Α (σε ksi)

Χωρισμός σε ομάδες

$$x_{\min} = 4.5 \text{ ksi} \quad x_{\max} = 7.0 \text{ ksi}$$

$$R = x_{\max} - x_{\min} = 7.0 - 4.5 = 2.5 \text{ ksi.}$$

Διαλέγουμε να χωρίσουμε τα δεδομένα σε 10 ομάδες ($k = 10$)

$$r = \frac{R}{k} = \frac{2.5}{10} = 0.25 \text{ ksi,}$$

Διαλέγουμε η πρώτη ομάδα (διάστημα) να αρχίζει από την τιμή 4.5 ksi

ομάδα 1: 4.50 – 4.75

ομάδα 2: 4.75 – 5.00

...

ομάδα 10: 6.75 – 7.00

Η τελευταία ομάδα περιλαμβάνει το $x_{\max} = 7.0 \text{ ksi}$

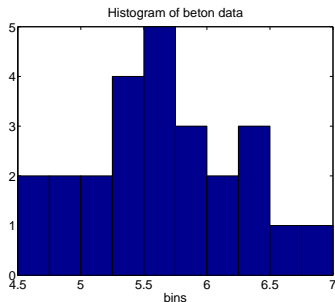
Παράδειγμα (συνέχεια)

Πίνακας συχνοτήτων

Διάστημα τιμών	f_i	p_i	F_i	P_i
4.50 – 4.75	2	0.08	2	0.08
4.75 – 5.00	2	0.08	4	0.16
5.00 – 5.25	2	0.08	6	0.24
5.25 – 5.50	4	0.16	10	0.40
5.50 – 5.75	5	0.20	15	0.60
5.75 – 6.00	3	0.12	18	0.72
6.00 – 6.25	2	0.08	20	0.80
6.25 – 6.50	3	0.12	23	0.92
6.50 – 6.75	1	0.04	24	0.96
6.75 – 7.00	1	0.04	25	1.00
Άθροισμα	25	1.00		

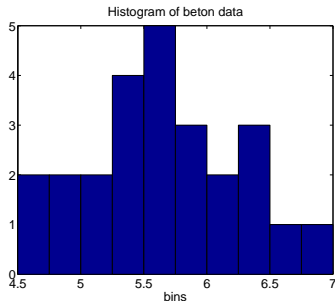
Παράδειγμα (συνέχεια)

Ιστόγραμμα



Παράδειγμα (συνέχεια)

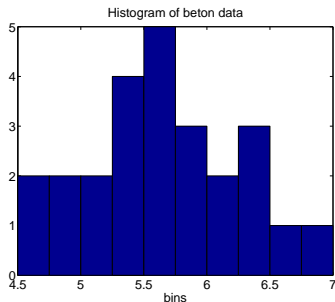
Ιστόγραμμα



Μπορούμε να δεχτούμε ότι η X ακολουθεί κάποια γνωστή κατανομή;

Παράδειγμα (συνέχεια)

Ιστόγραμμα



Μπορούμε να δεχτούμε ότι η X ακολουθεί κάποια γνωστή κατανομή;

Είναι σημαντικό για την στατιστική ανάλυση να είναι η κατανομή **κανονική**

Περιγραφικά Μέτρα Στατιστικών Δεδομένων

- **μέτρα θέσης:** προσδιορίζουν χαρακτηριστικές θέσεις μέσα στο εύρος των δεδομένων

Περιγραφικά Μέτρα Στατιστικών Δεδομένων

- **μέτρα θέσης:** προσδιορίζουν χαρακτηριστικές θέσεις μέσα στο εύρος των δεδομένων
- **μέτρα μεταβλητότητας:** δίνουν περιληπτικά τη διασκόρπιση και μεταβλητότητα των δεδομένων

Περιγραφικά Μέτρα Στατιστικών Δεδομένων

- **μέτρα θέσης:** προσδιορίζουν χαρακτηριστικές θέσεις μέσα στο εύρος των δεδομένων
- **μέτρα μεταβλητότητας:** δίνουν περιληπτικά τη διασκόρπιση και μεταβλητότητα των δεδομένων

x_1, x_2, \dots, x_n : παρατηρήσεις του δείγματος

Μέτρα θέσης

δειγματική μέση τιμή ή αριθμητικός μέσος ή μέσος όρος

Μέτρα θέσης

δειγματική μέση τιμή ή αριθμητικός μέσος ή μέσος όρος

$$\bar{x} = \frac{x_1 + x_2 + \dots + x_n}{n} = \frac{1}{n} \sum_{i=1}^n x_i$$

Μέτρα θέσης

δειγματική μέση τιμή ή αριθμητικός μέσος ή μέσος όρος

$$\bar{x} = \frac{x_1 + x_2 + \dots + x_n}{n} = \frac{1}{n} \sum_{i=1}^n x_i$$

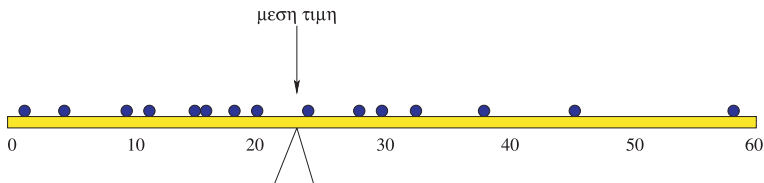
Η μέση τιμή είναι το 'κέντρο ισορροπίας' των δεδομένων

Μέτρα θέσης

δειγματική μέση τιμή ή αριθμητικός μέσος ή μέσος όρος

$$\bar{x} = \frac{x_1 + x_2 + \dots + x_n}{n} = \frac{1}{n} \sum_{i=1}^n x_i$$

Η μέση τιμή είναι το 'κέντρο ισορροπίας' των δεδομένων



Μέτρα θέσης

δειγματική διάμεσος

Μέτρα θέσης

δειγματική διάμεσος

Είναι η κεντρική τιμή όταν διατάζουμε τα δεδομένα σε αύξουσα σειρά

$$\tilde{x} = \begin{cases} x_{(n+1)/2} & n = 2k + 1 \\ \frac{x_{n/2} + x_{n/2+1}}{2} & n = 2k \end{cases}$$

Μέτρα θέσης

δειγματική διάμεσος

Είναι η κεντρική τιμή όταν διατάζουμε τα δεδομένα σε αύξουσα σειρά

$$\tilde{x} = \begin{cases} x_{(n+1)/2} & n = 2k + 1 \\ \frac{x_{n/2} + x_{n/2+1}}{2} & n = 2k \end{cases}$$

π.χ. δείγμα $x_1 \leq x_2 \leq x_3 \longrightarrow \tilde{x} = x_2$

π.χ. δείγμα $x_1 \leq x_2 \leq x_3 \leq x_4 \longrightarrow \tilde{x} = \frac{x_2 + x_3}{2}$

Μέτρα θέσης

δειγματική διάμεσος

Είναι η κεντρική τιμή όταν διατάζουμε τα δεδομένα σε αύξουσα σειρά

$$\tilde{x} = \begin{cases} x_{(n+1)/2} & n = 2k + 1 \\ \frac{x_{n/2} + x_{n/2+1}}{2} & n = 2k \end{cases}$$

π.χ. δείγμα $x_1 \leq x_2 \leq x_3 \longrightarrow \tilde{x} = x_2$

π.χ. δείγμα $x_1 \leq x_2 \leq x_3 \leq x_4 \longrightarrow \tilde{x} = \frac{x_2 + x_3}{2}$

δειγματική επικρατούσα τιμή

Είναι η τιμή που εμφανίζεται με τη μεγαλύτερη συχνότητα

Μέτρα θέσης

Παρατηρήσεις:

- \bar{x} είναι το πιο σημαντικό μέτρο και αποτελεί εκτίμηση του μ

Μέτρα θέσης

Παρατηρήσεις:

- \bar{x} είναι το πιο σημαντικό μέτρο και αποτελεί εκτίμηση του μ
- για τον υπολογισμό του \bar{x} χρησιμοποιούνται όλες οι παρατηρήσεις, για τη διάμεσο μόνο η τάξη τους

Μέτρα θέσης

Παρατηρήσεις:

- \bar{x} είναι το πιο σημαντικό μέτρο και αποτελεί εκτίμηση του μ
- για τον υπολογισμό του \bar{x} χρησιμοποιούνται όλες οι παρατηρήσεις, για τη διάμεσο μόνο η τάξη τους
- το \bar{x} επηρεάζεται από μακρινές τιμές, η διάμεσος όχι

Μέτρα θέσης

Παρατηρήσεις:

- \bar{x} είναι το πιο σημαντικό μέτρο και αποτελεί εκτίμηση του μ
- για τον υπολογισμό του \bar{x} χρησιμοποιούνται όλες οι παρατηρήσεις, για τη διάμεσο μόνο η τάξη τους
- το \bar{x} επηρεάζεται από μακρινές τιμές, η διάμεσος όχι

Θέμα 3

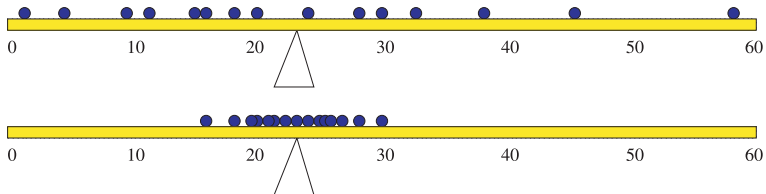
Το συνοπτικό μέτρο του περικομμένου μέσου (trimmed mean): Παρουσίαση, ιδιότητες και παράδειγμα.

Μέτρα μεταβλητότητας

Η μεταβλητότητα ή διασπορά των παρατηρήσεων είναι ένα δεύτερο σημαντικό χαρακτηριστικό του δείγματος

Μέτρα μεταβλητότητας

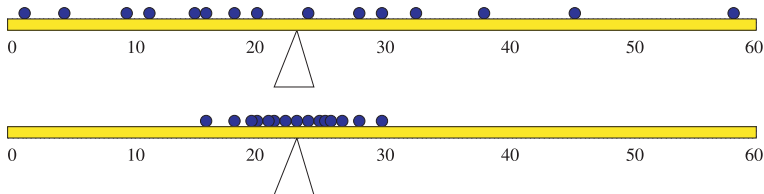
Η μεταβλητότητα ή διασπορά των παρατηρήσεων είναι ένα δεύτερο σημαντικό χαρακτηριστικό του δείγματος



Τα κυριότερα μέτρα διασποράς είναι:

Μέτρα μεταβλητότητας

Η μεταβλητότητα ή διασπορά των παρατηρήσεων είναι ένα δεύτερο σημαντικό χαρακτηριστικό του δείγματος



Τα κυριότερα μέτρα διασποράς είναι:

δειγματικό εύρος R

Δεν είναι ανθεκτικό μέτρο και υπολογίζεται μόνο από τις δύο ακραίες τιμές

Μέτρα μεταβλητότητας

δειγματική διασπορά ή δειγματική διακύμανση s^2

Μέτρα μεταβλητότητας

δειγματική διασπορά ή δειγματική διακύμανση s^2

Μετράει τη μεταβλητότητα των παρατηρήσεων γύρω από τη μέση τιμή.

Μέτρα μεταβλητότητας

δειγματική διασπορά ή δειγματική διακύμανση s^2

Μετράει τη μεταβλητότητα των παρατηρήσεων γύρω από τη μέση τιμή.

Απόκλιση μιας x_i από τη μέση τιμή : $x_i - \bar{x}$

Μέτρα μεταβλητότητας

δειγματική διασπορά ή δειγματική διακύμανση s^2

Μετράει τη μεταβλητότητα των παρατηρήσεων γύρω από τη μέση τιμή.

Απόκλιση μιας x_i από τη μέση τιμή : $x_i - \bar{x}$

Το άθροισμα όλων των αποκλίσεων είναι 0!

$$\sum_{i=1}^n (x_i - \bar{x}) = \sum_{i=1}^n x_i - \sum_{i=1}^n \bar{x} = n\bar{x} - n\bar{x} = 0$$

Μέτρα μεταβλητότητας

δειγματική διασπορά ή δειγματική διακύμανση s^2

Μετράει τη μεταβλητότητα των παρατηρήσεων γύρω από τη μέση τιμή.

Απόκλιση μιας x_i από τη μέση τιμή : $x_i - \bar{x}$

Το άθροισμα όλων των αποκλίσεων είναι 0!

$$\sum_{i=1}^n (x_i - \bar{x}) = \sum_{i=1}^n x_i - \sum_{i=1}^n \bar{x} = n\bar{x} - n\bar{x} = 0$$

Γι αυτό χρησιμοποιούμε τα τετράγωνα των αποκλίσεων

$$s^2 = \frac{1}{n-1} \sum_{i=1}^n (x_i - \bar{x})^2 \quad \boxed{\times}$$

ισοδύναμα

$$s^2 = \frac{1}{n-1} \left(\sum_{i=1}^n x_i^2 - n\bar{x}^2 \right) \quad \boxed{\vee}$$

Μέτρα μεταβλητότητας

Δύσκολο να ερμηνεύσουμε τη δειγματική διασπορά s^2

Μέτρα μεταβλητότητας

Δύσκολο να ερμηνεύσουμε τη δειγματική διασπορά s^2

δειγματική τυπική απόκλιση s

Η δειγματική τυπική απόκλιση s είναι πιο κατάλληλο μέτρο γιατί επιδέχεται φυσική ερμηνεία

Μέτρα μεταβλητότητας

Δύσκολο να ερμηνεύσουμε τη δειγματική διασπορά s^2

δειγματική τυπική απόκλιση s

Η δειγματική τυπική απόκλιση s είναι πιο κατάλληλο μέτρο γιατί επιδέχεται φυσική ερμηνεία

Μέτρα μεταβλητότητας

Δύσκολο να ερμηνεύσουμε τη δειγματική διασπορά s^2

δειγματική τυπική απόκλιση s

Η δειγματική τυπική απόκλιση s είναι πιο κατάλληλο μέτρο γιατί επιδέχεται φυσική ερμηνεία

Θέμα 4

Το συνοπτικό μέτρο της διάμεσης απόλυτης απόκλισης (median absolute deviation, MAD): Παρουσίαση, ιδιότητες και παράδειγμα.

p -εκατοστιαία σημεία

p -εκατοστιαίο σημείο: ποσοστό παρατηρήσεων το πολύ $p\%$ είναι μικρότερες απ' αυτήν την παρατήρηση ($0 \leq p < 1$)

Μέτρα μεταβλητότητας

Δύσκολο να ερμηνεύσουμε τη δειγματική διασπορά s^2

δειγματική τυπική απόκλιση s

Η δειγματική τυπική απόκλιση s είναι πιο κατάλληλο μέτρο γιατί επιδέχεται φυσική ερμηνεία

Θέμα 4

Το συνοπτικό μέτρο της διάμεσης απόλυτης απόκλισης (median absolute deviation, MAD): Παρουσίαση, ιδιότητες και παράδειγμα.

p -εκατοστιαία σημεία

p -εκατοστιαίο σημείο: ποσοστό παρατηρήσεων το πολύ $p\%$ είναι μικρότερες απ' αυτήν την παρατήρηση ($0 \leq p < 1$)

Η διάμεσος είναι το 50-εκατοστιαίο σημείο



Μέτρα μεταβλητότητας

Χαρακτηριστικά εκατοστιαία σημεία είναι τα *τεταρτομόρια*

- **πρώτο ή κατώτερο τεταρτομόριο** Q_1 : το 25-εκατοστιαίο σημείο

Μέτρα μεταβλητότητας

Χαρακτηριστικά εκατοστιαία σημεία είναι τα *τεταρτομόρια*

- **πρώτο ή κατώτερο τεταρτομόριο** Q_1 : το 25-εκατοστιαίο σημείο
- **τρίτο ή ανώτερο τεταρτομόριο** Q_3 : το 75-εκατοστιαίο σημείο

Μέτρα μεταβλητότητας

Χαρακτηριστικά εκατοστιαία σημεία είναι τα *τεταρτομόρια*

- **πρώτο ή κατώτερο τεταρτομόριο** Q_1 : το 25-εκατοστιαίο σημείο
- **τρίτο ή ανώτερο τεταρτομόριο** Q_3 : το 75-εκατοστιαίο σημείο

Q_1 και Q_3 ορίζονται όπως η διάμεσος αλλά περιορίζοντας το σύνολο των δεδομένων στα αντίστοιχα υποσύνολα (κατώτερο ή ανώτερο μισό).

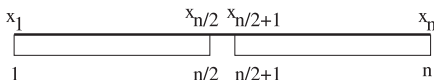
Μέτρα μεταβλητότητας

Χαρακτηριστικά εκατοστιαία σημεία είναι τα *τεταρτομόρια*

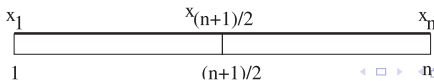
- **πρώτο ή κατώτερο τεταρτομόριο** Q_1 : το 25-εκατοστιαίο σημείο
- **τρίτο ή ανώτερο τεταρτομόριο** Q_3 : το 75-εκατοστιαίο σημείο

Q_1 και Q_3 ορίζονται όπως η διάμεσος αλλά περιορίζοντας το σύνολο των δεδομένων στα αντίστοιχα υποσύνολα (κατώτερο ή ανώτερο μισό).

$$n=2k$$



$$n=2k+1$$



Μέτρα μεταβλητότητας

ενδοτεταρτομοριακό εύρος /

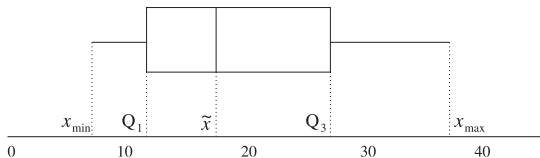
$I = Q_3 - Q_1$ είναι το εύρος που καλύπτουν τα μισά από τα δεδομένα που είναι πιο κοντά διάμεσο

Μέτρα μεταβλητότητας

ενδοτεταρτομοριακό εύρος /

$I = Q_3 - Q_1$ είναι το εύρος που καλύπτουν τα μισά από τα δεδομένα που είναι πιο κοντά διάμεσο

σύνοψη των 5 αριθμών - **θηκόγραμμα**

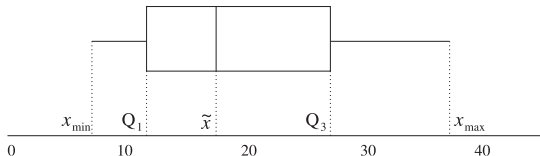


Μέτρα μεταβλητότητας

ενδοτεταρτομοριακό εύρος /

$I = Q_3 - Q_1$ είναι το εύρος που καλύπτουν τα μισά από τα δεδομένα που είναι πιο κοντά διάμεσο

σύνοψη των 5 αριθμών - θηκόγραμμα



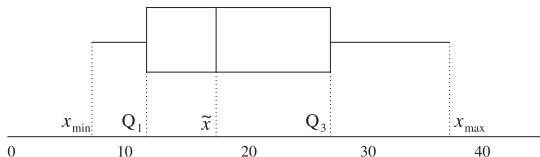
Συνθήκες για αποδοχή κανονικής κατανομής από θηκόγραμμα

Μέτρα μεταβλητότητας

ενδοτεταρτομοριακό εύρος /

$I = Q_3 - Q_1$ είναι το εύρος που καλύπτουν τα μισά από τα δεδομένα που είναι πιο κοντά διάμεσο

σύνοψη των 5 αριθμών - θηκόγραμμα



Συνθήκες για αποδοχή κανονικής κατανομής από θηκόγραμμα

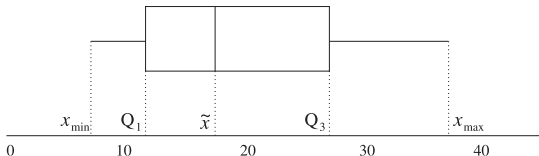
- \tilde{x} όχι κοντά στο Q_1 ή στο Q_3

Μέτρα μεταβλητότητας

ενδοτεταρτομοριακό εύρος /

$I = Q_3 - Q_1$ είναι το εύρος που καλύπτουν τα μισά από τα δεδομένα που είναι πιο κοντά διάμεσο

σύνοψη των 5 αριθμών - θηκόγραμμα



Συνθήκες για αποδοχή κανονικής κατανομής από θηκόγραμμα

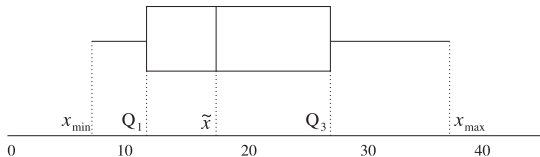
- \tilde{x} όχι κοντά στο Q_1 ή στο Q_3
- το εύρος των τιμών στα δύο ακραία τεταρτομόρια να μη διαφέρει σημαντικά

Μέτρα μεταβλητότητας

ενδοτεταρτομοριακό εύρος /

$I = Q_3 - Q_1$ είναι το εύρος που καλύπτουν τα μισά από τα δεδομένα που είναι πιο κοντά διάμεσο

σύνοψη των 5 αριθμών - θηκόγραμμα



Συνθήκες για αποδοχή κανονικής κατανομής από θηκόγραμμα

- \tilde{x} όχι κοντά στο Q_1 ή στο Q_3
- το εύρος των τιμών στα δύο ακραία τεταρτομόρια να μη διαφέρει σημαντικά
- να μην υπάρχουν ακραίες τιμές

Παράδειγμα: περιεκτικότητα σε ραδιενέργεια του χάλυβα

Δίνεται η περιεκτικότητα σε ραδιενέργεια του χάλυβα σε 10 δοκίμια από ένα εργοστάσιο Α

A/A	εργοστάσιο Α	εργοστάσιο Β
1	0.40	0.11
2	0.51	0.13
3	0.51	0.26
4	0.54	0.27
5	0.55	0.33
6	0.59	0.37
7	0.63	0.52
8	0.67	0.65
9	0.75	
10	2.10	
Σύνολο	7.25	2.64

Παράδειγμα (συνέχεια)

δειγματική μέση τιμή:

$$\bar{x} = \frac{1}{10} \sum_{i=1}^{10} x_i = \frac{7.25}{10} = 0.725$$

Παράδειγμα (συνέχεια)

δειγματική μέση τιμή:

$$\bar{x} = \frac{1}{10} \sum_{i=1}^{10} x_i = \frac{7.25}{10} = 0.725$$

δειγματική διάμεσος:

$$\tilde{x} = \frac{x_{n/2} + x_{n/2+1}}{2} = \frac{x_5 + x_6}{2} = \frac{0.55 + 0.59}{2} = 0.57$$

Παράδειγμα (συνέχεια)

δειγματική μέση τιμή:

$$\bar{x} = \frac{1}{10} \sum_{i=1}^{10} x_i = \frac{7.25}{10} = 0.725$$

δειγματική διάμεσος:

$$\tilde{x} = \frac{x_{n/2} + x_{n/2+1}}{2} = \frac{x_5 + x_6}{2} = \frac{0.55 + 0.59}{2} = 0.57$$

εύρος τιμών δείγματος:

$$x_{\min} = 0.40 \quad x_{\max} = 2.10 \quad \longrightarrow \quad R = 1.70$$

Παράδειγμα (συνέχεια)

δειγματική μέση τιμή:

$$\bar{x} = \frac{1}{10} \sum_{i=1}^{10} x_i = \frac{7.25}{10} = 0.725$$

δειγματική διάμεσος:

$$\tilde{x} = \frac{x_{n/2} + x_{n/2+1}}{2} = \frac{x_5 + x_6}{2} = \frac{0.55 + 0.59}{2} = 0.57$$

εύρος τιμών δείγματος:

$$x_{\min} = 0.40 \quad x_{\max} = 2.10 \quad \longrightarrow \quad R = 1.70$$

δειγματική διασπορά (Πρώτα το άθροισμα τετραγώνων)

$$\sum_{i=1}^{10} x_i^2 = 0.40^2 + 0.51^2 + \dots + 0.75^2 + 2.10^2 = 7.44$$

$$s^2 = \frac{1}{9} \left(\sum_{i=1}^{10} x_i^2 - 10\bar{x}^2 \right) = \frac{1}{9} (7.44 - 10 \cdot 0.725^2) = 0.243$$

Παράδειγμα (συνέχεια)

$$\text{δειγματική τυπική απόκλιση } s = \sqrt{s^2} = \sqrt{0.243} = 0.493$$

Παράδειγμα (συνέχεια)

Έστω ότι η ακραία τιμή οφείλεται σε σφάλμα μέτρησης (δεν είναι πραγματική)

Παράδειγμα (συνέχεια)

Έστω ότι η ακραία τιμή οφείλεται σε σφάλμα μέτρησης (δεν είναι πραγματική)

Απαλοιφή ακραίας τιμής (\rightarrow 9 παρατηρήσεις)

Παράδειγμα (συνέχεια)

Έστω ότι η ακραία τιμή οφείλεται σε σφάλμα μέτρησης (δεν είναι πραγματική)

Απαλοιφή ακραίας τιμής (\rightarrow 9 παρατηρήσεις)

δειγματική μέση τιμή

$$\bar{x} = \frac{5.15}{9} = 0.572$$

δειγματική διάμεσος

$$\tilde{x} = x_{(n+1)/2} = x_5 = 0.55$$

Διασπορά

$$s^2 = \frac{1}{8} (5.15 - 9 \cdot 0.572^2) = 0.010$$

Τυπική απόκλιση

$$s = \sqrt{0.010} = 0.10$$

Ελάχιστη τιμή

$$x_{\min} = 0.40$$

Μέγιστη τιμή

$$x_{\max} = 0.75$$

Εύρος

$$R = 0.75 - 0.40 = 0.35$$

Πρώτο τεταρτομόριο

$$(\text{διάμεσος των } \{x_1, \dots, x_5\}) \quad Q_1 = x_3 = 0.51$$

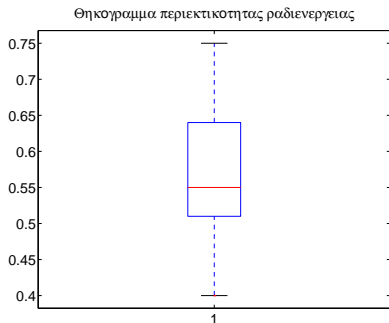
Τρίτο τεταρτομόριο

$$(\text{διάμεσος των } \{x_5, \dots, x_9\}) \quad Q_3 = x_7 = 0.63$$

Ενδοτεταρτομοριακό εύρος

$$I = 0.63 - 0.51 = 0.12$$

Παράδειγμα (συνέχεια)



Παράδειγμα (συνέχεια)

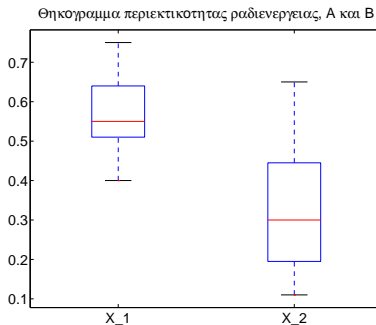
Σύγκριση περιεκτικότητας ραδιενέργειας σε χάλυβα από δύο εργοστάσια

Παράδειγμα (συνέχεια)

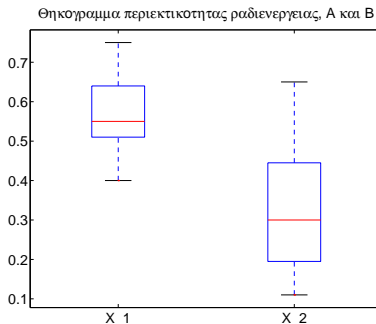
Σύγκριση περιεκτικότητας ραδιενέργειας σε χάλυβα από δύο εργοστάσια

Μέτρο	X_1	X_2
Μέση τιμή	$\bar{x}_1 = 0.572$	$\bar{x}_2 = 0.33$
Διάμεσος	$\tilde{x}_1 = 0.55$	$\tilde{x}_2 = 0.30$
Διασπορά	$s_1^2 = 0.010$	$s_2^2 = 0.034$
Τυπική απόκλιση	$s_1 = 0.10$	$s_2 = 0.18$
Ελάχιστη τιμή	$x_{1,\min} = 0.40$	$x_{2,\min} = 0.11$
Μέγιστη τιμή	$x_{1,\max} = 0.75$	$x_{1,\max} = 0.65$
Εύρος	$R_1 = 0.35$	$R_2 = 0.54$
Πρώτο τεταρτομόριο	$Q_{1,1} = 0.51$	$Q_{2,1} = 0.195$
Τρίτο τεταρτομόριο	$Q_{1,3} = 0.63$	$Q_{2,3} = 0.445$
Ενδοτεταρ. εύρος	$I_1 = 0.12$	$I_2 = 0.250$

Παράδειγμα (συνέχεια)

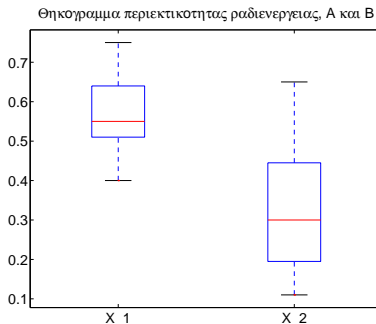


Παράδειγμα (συνέχεια)



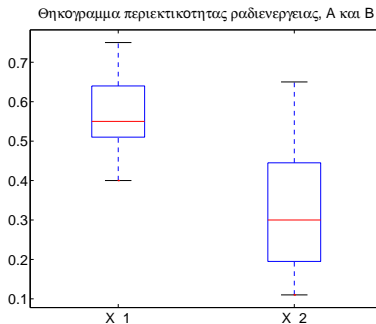
- Είναι η κατανομή ίδια;

Παράδειγμα (συνέχεια)



- Είναι η κατανομή ίδια;
- Είναι η διασπορά ίδια;

Παράδειγμα (συνέχεια)



- Είναι η κατανομή ίδια;
- Είναι η διασπορά ίδια;
- Είναι το κέντρο ίδιο;

Άσκηση

Έγιναν 15 μετρήσεις της συγκέντρωσης διαλυμένου οξυγόνου (Δ.Ο.) σε ένα ποτάμι (σε mg/l)

1.8	2.0	2.1	1.7	1.2	2.3	2.5	2.9	1.6	2.2	2.3	1.8	2.4	1.6	1.9
-----	-----	-----	-----	-----	-----	-----	-----	-----	-----	-----	-----	-----	-----	-----

Άσκηση

Έγιναν 15 μετρήσεις της συγκέντρωσης διαλυμένου οξυγόνου (Δ.Ο.) σε ένα ποτάμι (σε mg/l)

1.8	2.0	2.1	1.7	1.2	2.3	2.5	2.9	1.6	2.2	2.3	1.8	2.4	1.6	1.9
-----	-----	-----	-----	-----	-----	-----	-----	-----	-----	-----	-----	-----	-----	-----

- Υπολογίστε τα μέτρα θέσης και μεταβλητότητας για τα δεδομένα του δείγματος και σχηματίστε το κατάλληλο θηκόγραμμα.

Άσκηση

Έγιναν 15 μετρήσεις της συγκέντρωσης διαλυμένου οξυγόνου (Δ.Ο.) σε ένα ποτάμι (σε mg/l)

1.8	2.0	2.1	1.7	1.2	2.3	2.5	2.9	1.6	2.2	2.3	1.8	2.4	1.6	1.9
-----	-----	-----	-----	-----	-----	-----	-----	-----	-----	-----	-----	-----	-----	-----

- Υπολογίστε τα μέτρα θέσης και μεταβλητότητας για τα δεδομένα του δείγματος και σχηματίστε το κατάλληλο θηκόγραμμα.
- Σχολιάστε αν φαίνεται η συγκέντρωση Δ.Ο. στο νερό του ποταμού να ακολουθεί κανονική κατανομή.