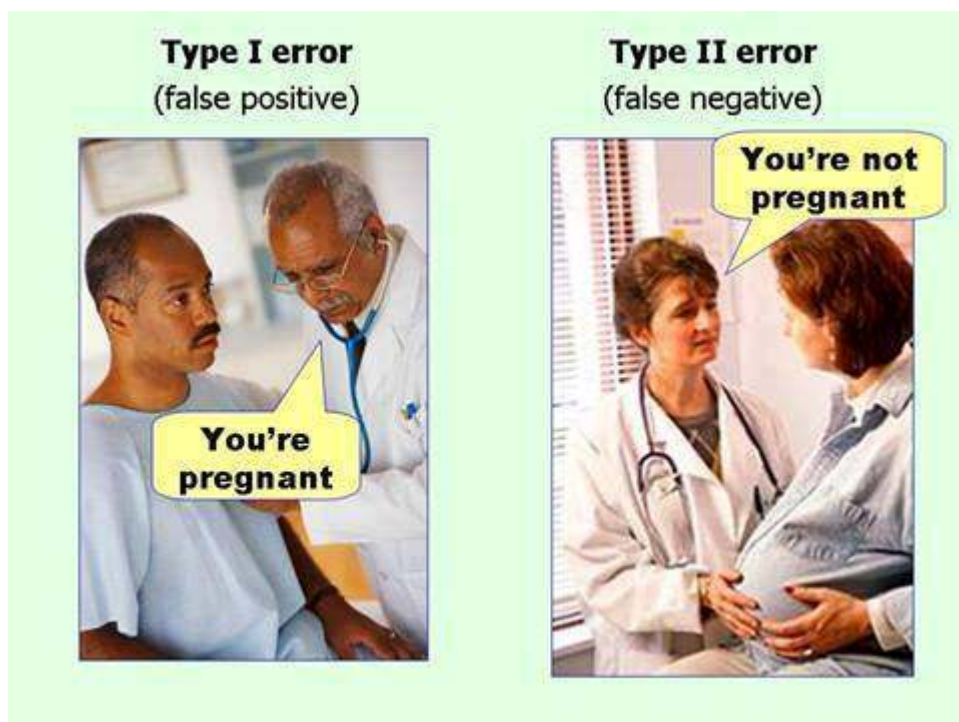


Εξετάσεις στο Μάθημα: Στατιστική

Θεσσαλονίκη:

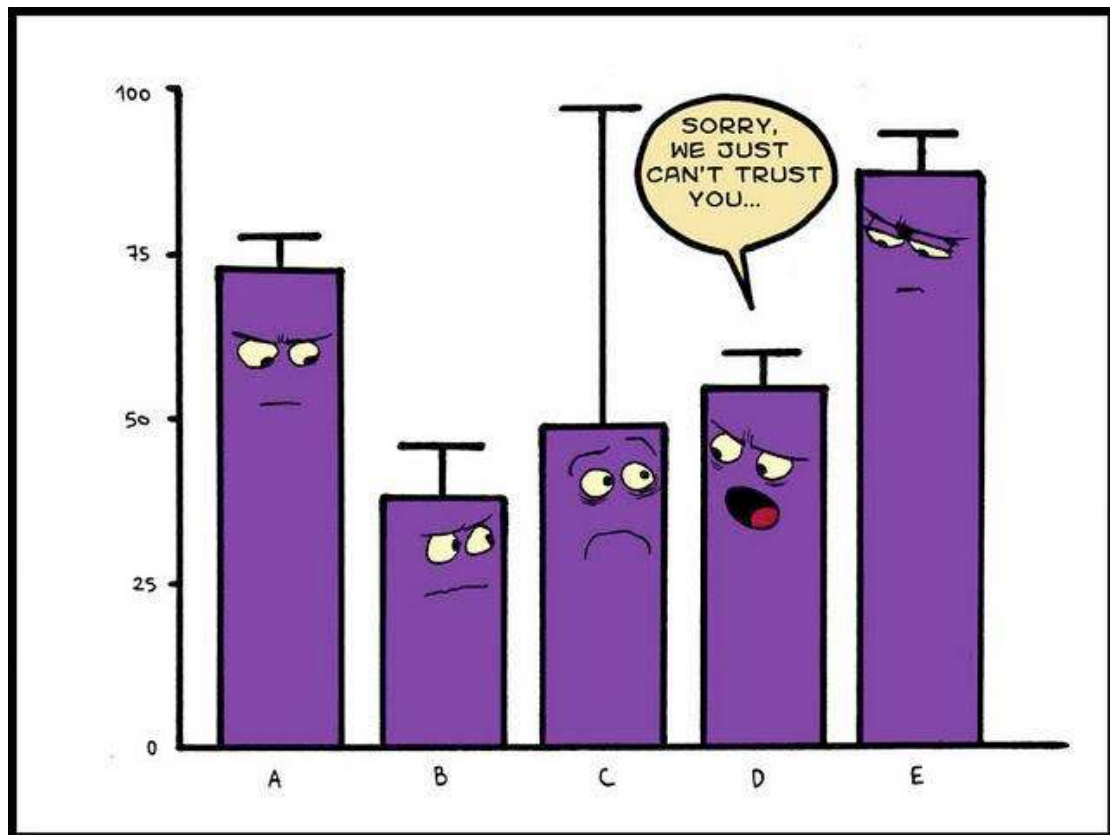
Επώνυμο	
Όνομα	
Αρ. Μητρώου	
Πρόγραμμα Σπουδών	Νέο <input type="checkbox"/> Παλαιό <input type="checkbox"/>

Ζήτημα 1 (2 μονάδες). Μελετήστε προσεκτικά την παρακάτω εικόνα. Στη συνέχεια να ορίσετε το Σφάλμα Τύπου I και το Σφάλμα Τύπου II στους στατιστικούς ελέγχους υποθέσεων. Δώστε συγκεκριμένα παραδείγματα.




Απάντηση:

Ζήτημα 2 (2 μονάδες). Μελετήστε με προσοχή την παρακάτω εικόνα. Έχει δίκιο η “ομιλούσα ράβδος”; Αιτιολογήστε την απάντησή σας.




Απάντηση:

Ζήτημα 3 (2 μονάδες). Μελετήστε προσεκτικά την παρακάτω εικόνα. Είναι ορθός ο συλλογισμός του μαθητή; Αιτιολογήστε την απάντησή σας. Δώστε (αντι) παράδειγμα.



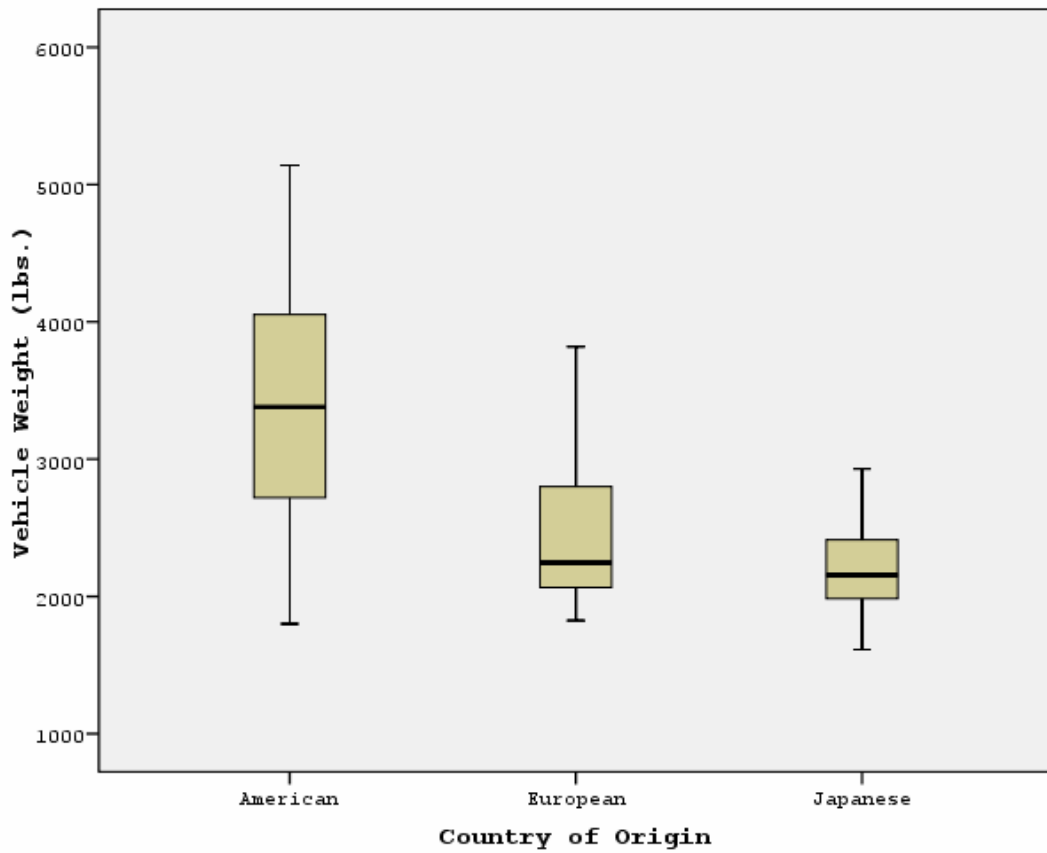
Απάντηση:

Ζήτημα 4 (2 μονάδες). Μελετήστε με προσοχή την παρακάτω εικόνα. Τι πιθανώς πήγε “στραβά” στη συγκεκριμένη μελέτη;



Απάντηση:

Ζήτημα 5 (2 μονάδες). Μελετήστε προσεκτικά την παρακάτω εικόνα. Σχολιάστε τα αποτελέσματα.



Απάντηση:

Καλή σας επιτυχία 😊